

PHYSICAL SCIENCE-Lecture-1201-META

Dashboard / My courses / PHYSICAL SCIENCE-Lecture-1201-META / Final Exam 3/02/2021 / الأسئلة المتبقية

Question 13

Not yet answered
Marked out of 1.00
Flag question

أي من الجمل التالية صحيحة؟

Select one:

- a. الالتصاق يعني توزيع الشحن بآه على تلكه الشوائب وتلج عدد من سمف الأزداد بين مسكرف الذرات.
- b. المستقل بوزان منحرف المعدن في الماء.
- c. مكبر الثمان هو شكل السطح الخارج من كسره في صلبوى الأتمساق.
- d. كثافة البلورات تكون لظمن التوزيع وتلكه بالاعتماد على المحاور المتساوية في شرواى المعنوية.

[Clear my choice](#)

Question 14

Not yet answered
Marked out of 1.00

أي من الأشعة التالية تتكون من جفتى معطلة للإلكترونات؟

Select one:

Type here to search

Call us : +97(0)2]-2-2982000 E-mail : help@ritaj.ps

12000

Question 23

Not yet answered

Marked out of 1.00

Flag question

يتكون نظير الكربون المشع (كربون - 14) نتيجة تفاعل نيوترونات مع:

Select one:

a. ذرات الكربون في غاز ثاني كسيد الكربون الموجود في الجو.

b. ذرات غاز النيتروجين الموجود في الجو.

c. ذرات غاز الاكسجين الموجود في الجو.

d. ذرات الكربون المشعة الناتجة من تحلل مركبات الكورون-المزمن-الكربون.

Clear my choice

Question 24

Not yet answered

Marked out of 1.00

Flag question

نظرية الوحدة الواحدة بالنسبة للزماني الجيولوجي تعني:

Select one:

a. الظروف التي سادت في كوكب الأرض المتماثل للظروف الحالية.

b. الظروف التي سادت في الماضي شبه الظروف الحالية.

c. الظروف التي سادت في الماضي.

d. الظروف التي سادت في الماضي والظروف الحالية.

Clear my choice

Type here to search



Question 5

Not yet answered

Marked out of 1.00

Flag question

عند سقوط الجسم سقوطا حرا باتجاه مركز الأرض فإنه:

Select one:

- a. يزداد تسارعه و تقل طاقة وضعه
- b. تتغير طاقته الكلية
- c. تزداد سرعته وتسارعه
- d. تزداد سرعته و تقل طاقة وضعه

Previous page

Finish attempt ...



UNIVERSITY

العلوم الفيزيائية - محاضرة - 01

مسابقة 2 / الموضوع 5 / العلوم الفيزيائية - محاضرة - 1201 - 2 / دوراتي

تعتبر حركة المياه في نهر النيل من الجنوب الى الشمال

اختر واحدا



- ا. دورانية
- ب. إنتقالية
- ج. تنبئية
- د. دورانية إهتزازية





PHYSICAL SCIENCE-Lecture-1201 - 1

board / My courses / PHYSICAL SCIENCE-Lecture-1201 - 1 / Topic 15 / Quiz -6 chapter

Question 3
at
red
d out of
g
on


الرابطة الثلاثية الموجودة في جزي الأوكسجين O_2 (العدد الذري = 8) هي رابطة تساهمية

Select one:

- True
- False

الفصل الخامس عشر - التعداد

Jump to...



Question 17

Not yet answered

Marked out of 1.00

Flag question

أي من أنواع اللدغ التالية أخطأها في عنصر الكربون؟

Select one:

- a. اللدغ البيروميتي
- b. اللدغ الحجري
- c. لدغ التاليت
- d. لدغ البيت

Clear my choice

Question 18

Not yet answered

Marked out of 1.00

Flag question


يمكن الحصول على الكروميت بواسطة:

Select one:

- a. التغير الجزئي للبرونز
- b. التغير الانعكاسي للبرونز
- c. التغير التفاضلي للبرونز
- d. التغير الجزئي للبرونز

Clear my choice

Type here to search



on 10
red
d out of

أي من الوحدات التالية تكون دولية

Select one:

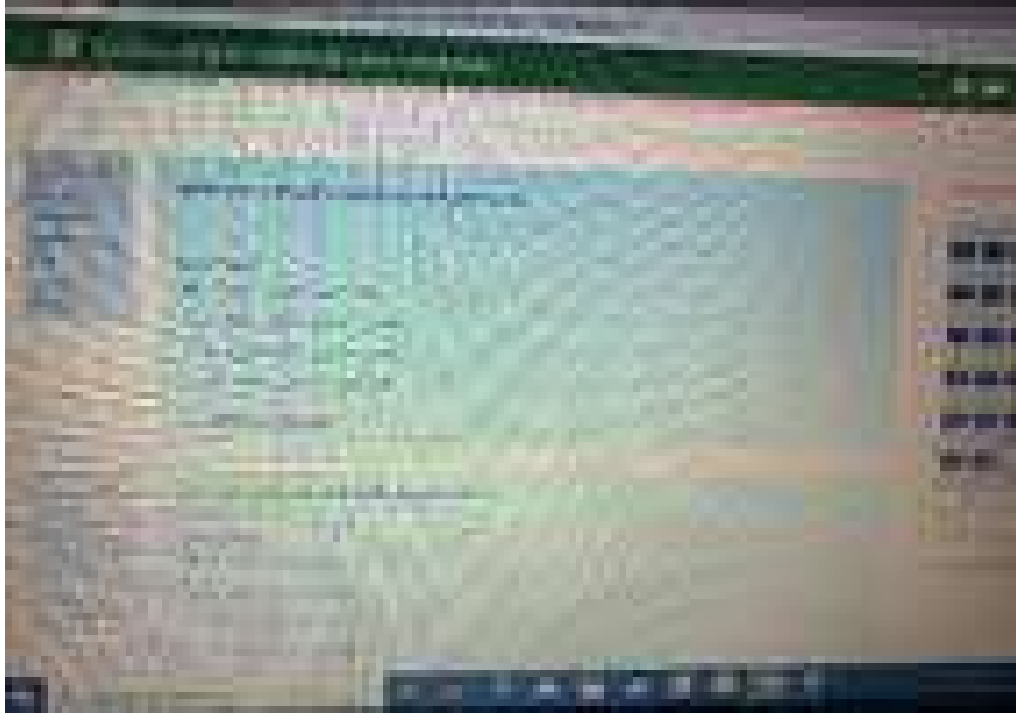
- a. الكتلة بالغمم
- b. السرعة م/ث
- c. شدة التيار بالأمبير
- d. المسافة بالكيلومتر

[Clear my choice](#)

11

رتب العناصر التالية ترتيباً تصاعدياً حسب طاقة التأين من اليمين إلى اليسار:

${}_{6}C$, ${}_{8}O$, ${}_{11}Na$, ${}_{9}F$, ${}_{1}H$



PHYSICAL SCIENCE-Lecture-1201-META

Dashboard / My courses / PHYSICAL SCIENCE-Lecture-1201-META / امتحان نهائي / Final Exam 3/02/2021

Question 46

Not yet answered
Marked out of 1.00
Flag question

أي من المركبات التالية يعتبر ملوثًا للهواء؟

Select one:

- أ. أكاسيد الكربون
- ب. الهيدروكربونات
- ج. أكاسيد النيتروجين
- د. ثاني أكسيد الكبريت (SO₂)

Clear my choice

Question 47

Not yet answered
Marked out of 1.00
Flag question

يطلق اسم على التردد في مقياس

Select one:

- أ. 10¹² هرتز
- ب. 10¹⁴ هرتز
- ج. 10¹⁶ هرتز
- د. 10¹⁸ هرتز

Type here to search

Clear my choice

Question 3

Not yet answered

Marked out of 1.00

Flag question

جميع المعادن التالية علمية:

Select one:

- a. البزخيت والمانس والكوارتز
- b. الكريت والمانس والكلسيت
- c. الكريت والبزخيت والبازلت
- d. المانس والكريت والبزخيت

Clear my choice

Next page

Jump to...

Print Exam Report

PHYSICAL SCIENCE-Lecture-1201-META

Dashboard / My courses / PHYSICAL SCIENCE-Lecture-1201-META / الامتحان النهائي-Final Exam 3/02/2021 / الامتحان النهائي: عربي

Question 7

Not yet answered
Marked out of 1.00
Flag question

إذا كان عمر النصف لعنصر مشع هو 1000 سنة فإن نسبة العنصر المشع إلى العناصر الناتجة من التعلق الإشعاعي لهذا العنصر بعد 3000 سنة هي:

Select one:

- a. 3:1
- b. 2:1
- c. 7:1
- d. 3:2

Clear my choice

Question 8

Not yet answered
Marked out of 1.00
Flag question

تدور كوكب عطارد من جرمه إلى الشمس على مسافة 55 مليون كيلومتر تقريباً. ما هي سرعة الكوكب المدارية؟

Select one:

- a. 30 km/s
- b. 300 km/s
- c. 3 km/s

Quiz navigation

1	2	3	4
5	10	11	12
13	14	15	16
17	18	19	20
21	22	23	24
25	26	27	28
29	30	31	32
33	34	35	36
37	38	39	40
41	42	43	44
45	46	47	48
49	50	51	52

Final attempt ...
Time left 1:28:25

Type here to search



ASUS

Question 3

Not yet answered

Marked out of 1.00

Flag question

تكون سرعة الجسم متزايدة ؟

Select one:

- a. عندما يقطع مسافات متساوية خلال أزمنة متساوية.
- b. عندما يقطع مسافات متساوية خلال أزمنة متزايدة.
- c. عندما يقطع مسافات متساوية خلال أزمنة متناقصة.
- d. عندما يقطع مسافات متناقصة خلال أزمنة متساوية.

[Clear my choice](#)

Done

Edit

/ My courses / PHYSICAL SCIENCE-Lecture-1201 - 1 / Topic

الرابطه الموجودة في ملح الطعام NaCl هي رابطه ايونية

Select one:

True

False

Next pa



More



Question 19
Selected
Marked out of 10
Flag question

مقياس ميركالي لقياس الهزات الأرضية هو مقياس:

Select one:

- a. كتلة الصخور الصخرية التي تآكلت من حدوث الزلازل.
- b. عدد الزلازل التي تحدث سنويا.
- c. مقياس كمي يقي على كمية الطاقة الكلية التي تفرجت خلال الزلازل.
- d. التمييز الذي ياتي بالأصوات المختلفة من العمق و سطح الأرض.

Clear my choice

Question 20
Selected
Marked out of 10
Flag question

عدد البروتونات في أيون الكالسيوم Ca^{2+} :

Select one:

- a. 20 (وهو العدد الذري لـ 20)
- b. 20 (وهي عدد البروتونات في أيون الكالسيوم 20)
- c. 18 (وهو العدد الذري لـ 20)
- d. 22 (وهو العدد الذري لـ 20)

Type here to search





Question 3

Not yet answered

Marked out of 1.00

Flag question

أي من الخيارات التالية تكون كل الكميات فيها كميات متجهة؟

Select one:

- a. الكتلة - الطول - الازاحة
- b. الوزن - الازاحة - السرعة المتجهة
- c. المسافة - الوزن - الزمن
- d. المسافة - الازاحة - السرعة

[Clear my choice](#)

Question 4

Not yet answered

Marked out of 1.00

Flag question

PHYSICAL SCIENCE 1201

Dashboard / My courses / PHYSICAL SCIENCE-Lecture-1201 - 3 / Topic 2 / Quiz 2-Arabic

- Question 2
- Not yet answered
- Marked out of 1.00
- Flag question

إذا تحركت سيارة بسرعة منتظمة مقدارها 80 كم/ساعة لمدة 45 دقيقة فإن المسافة التي قطعها خلال هذه الفترة هي:

Select one:

- a. 4 34
- b. 4 107
- c. 4 80
- d. 4 60

Clear my choice

Previous page Next page